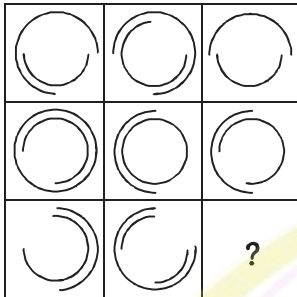


آمادگی برای آزمون

هوش تصویری و فضایی

۱- به جای علامت سؤال کدام گزینه می تواند قرار بگیرد؟



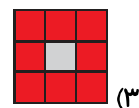
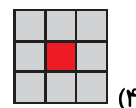
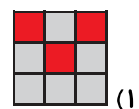

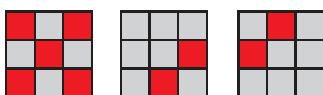
۲- الگوی زیر را کدام گزینه کامل می کند؟



?

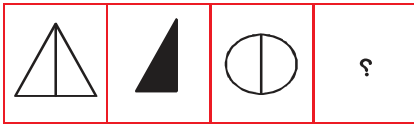


۳- الگوی زیر را کدام گزینه کامل می کند؟




آمادگی برای آزمون

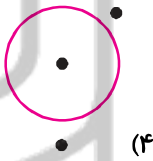
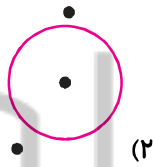
۴- کدام یک از تصویرها پاسخ مناسب برای شکل (ت) است؟



(الف) (ب) (پ) (ت)





۵- کدام گزینه با بقیه ناهماهنگ تر است؟











آمادگی برای آزمون

سرعت و دقت

* در یک نرم افزار ریاضی اشکال بر اساس یک الگوی مشخص کد گذاری شده اند. در جدول زیر کد مربوط به

هر شکل ارائه شده است. به عنوان مثال با کد ۱۰۳۰۰ شکل  را رسم می کند و یا شکل  با کد

۲۰۴۰۰ رسم می شود. بر اساس جدول زیر به سؤالات پاسخ دهید.


کد اشکال بزرگ		کد اشکال کوچک	
	۱۰۰		۱۰
	۲۰۰		۲۰
	۳۰۰		۳۰
	۴۰۰		۴۰

۶- کد ۳۰۳۰۰ شکل را رسم می کند.



۷- کد ۲۰۱۰۰ شکل را رسم می کند.



۸- شکل  با کد رسم می شود.

(۴) ۳۰۰۴۰ (۳) ۴۰۳۰۰ (۲) ۱۰۲۰۰ (۱) ۴۰۱۰۰

۹- کدام کد اشتباه است؟

(۴) ۳۰۴۰۰ (۳) ۴۰۰۲۰ (۲) ۴۰۲۰۰ (۱) ۳۰۲۰۰

۱۰- کدام کد مربوط به شکلی است که در آن زاویه‌ی قائمه وجود دارد؟

(۴) ۳۰۲۰۰ (۳) ۱۰۴۰۰ (۲) ۲۰۱۰۰ (۱) ۴۰۴۰۰